

Name: _____

Datum: _____

Europa

1. Deutschland hat 12 Nachbarn. Wie heißen sie ?

Suche mit dem Atlas.

2. Immer ein Land gehört nicht zu Europa. Streiche es durch.

- a) Frankreich, Estland, Schweden, Kroatien, Japan
- b) Tschechien, Irland, Ungarn, Mexiko, Russland
- c) Großbritannien, Brasilien, Deutschland, Belgien, Finnland
- d) Albanien, Thailand, Holland, Schweden, Italien
- e) Spanien, Norwegen, Neuseeland, Schweiz, Griechenland

3. Diese Länder kannst du leicht erkennen. Wie heißen sie ?

Du kannst den Atlas benutzen.

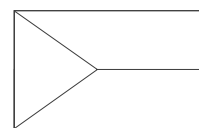
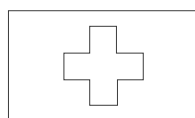



a) _____

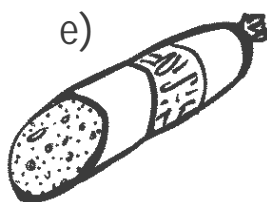



b) _____

c) _____

4. Wie sehen die Flaggen der Länder von Frage 3 aus. Male sie richtig an. Achtung: 2 Flaggen sind falsch. Streiche sie durch.



5. Aus welchem Land kommen diese Lebensmittel ?
Schreibe auch, wie die Hauptstadt heißt.



a) Erdbeeren können aus _____ kommen.

Die Hauptstadt von _____ heißt _____

b) _____

c)

d)

e)

f)

g)

6. Auf dieser Karte sollst du Deutschland finden. Male an, wo Deutschland ungefähr liegt.

